

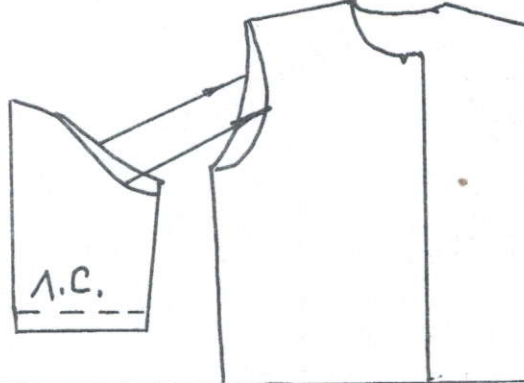
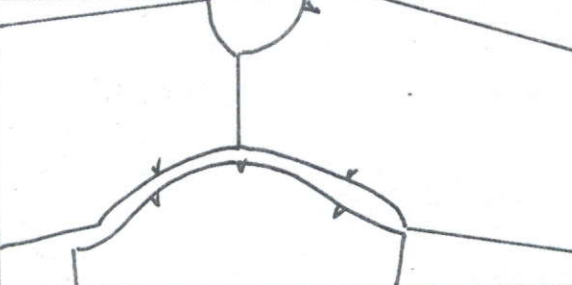
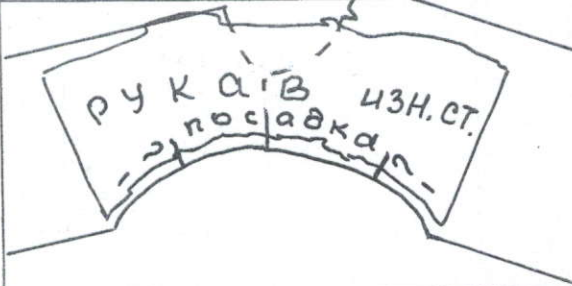
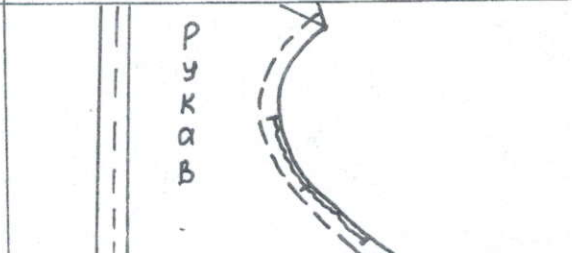
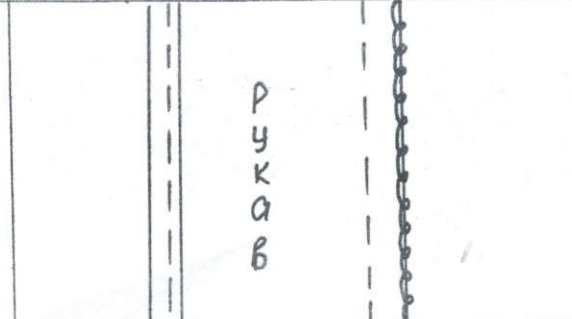
## Задание 6.

- Изучите инструкционную карту и заполните таблицу

Таблица

## Инструкционно-технологическая карта

## Соединение рукава с открытой проймой

Наименование операции	Рисунок	Технические условия
1. Определение соответствия рукава пройме		<p>Перегнуть деталь рукава на л.с. по линии середины. Нижняя часть оката рукава, которая имеет больший прогиб должна соединяться с проймой</p>
2. Совмещение контрольных меток		<p>При правильном определении соответствия рукава пройме контрольные метки на рукаве и пройме должны</p>
3. Распределение посадки		<p>Посадку по окату распределяют равномерно, наибольшая – в части оката</p>
4. Втачивание рукавов в открытые проймы		<p>Втачивают по детали _____, совмещая срезы и _____ метки, Шш = _____ см</p>
5. Обмётывание швов втачивания		<p>Обмётывают по детали _____</p>